

豊川高等学校

令和7年度 一般入学者選抜試験問題

社 会

試験時間 40分

「解答はじめ」の指示があるまで、この問題冊子の中を見てはいけません。

【注意事項】

- この試験は、すべてマークシート方式です。
- 問題冊子の中に、解答用紙があります。試験中に問題冊子の印刷不鮮明、ページの落丁・乱丁及び解答用紙の汚れなどに気付いた場合は、手をあげて監督者に知らせなさい。
- マークシート記入上の注意
 - マークはHBの黒鉛筆で、(例1)の良い例のように枠の中をぬりつぶしなさい。
 - 受験番号は、(例2)に従って記入し、それぞれの番号をマークしなさい。

(例1) マークのしかた

| | |
|-----|--|
| 良い例 | |
| 悪い例 | |

(例2) 受験番号 1202の場合

| 受 験 番 号 | | | |
|---------|---|---|---|
| 1 | 2 | 0 | 2 |
| | | | |
| | | | |
| | | | |

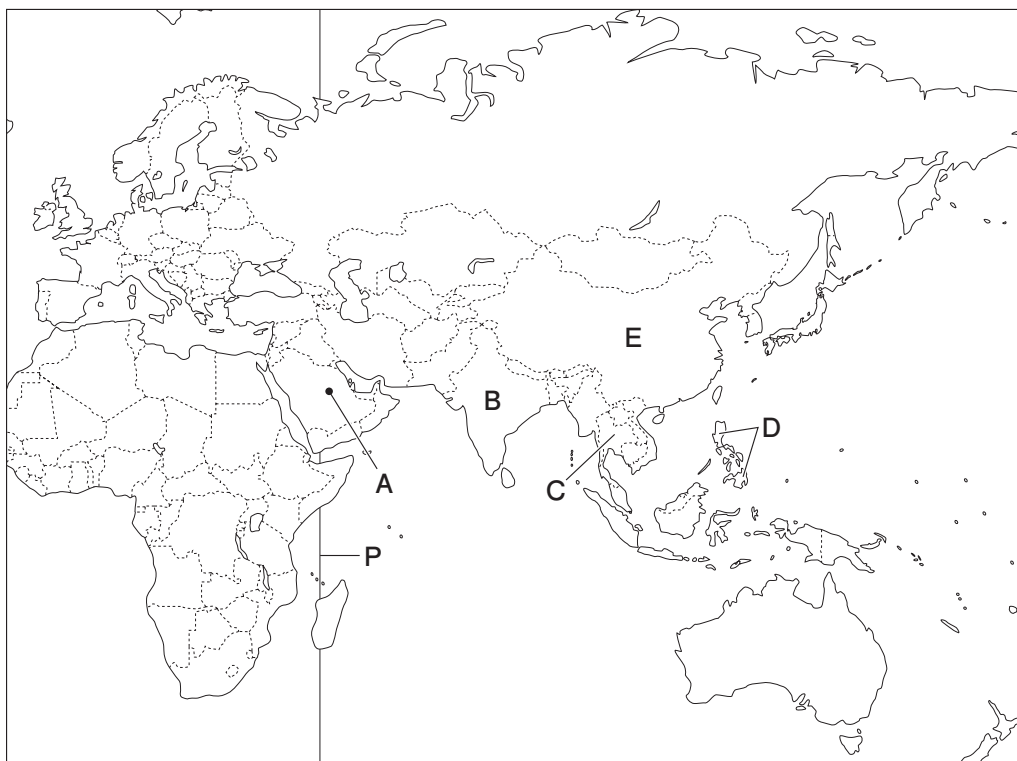
- 解答の記入方法は、たとえば と表示のある問いに対して②と解答する場合には、下の例のようにマークしなさい。

| 問 | マ ー ク 解 答 欄 | | | | | | | | |
|---|--------------------------|-------------------------------------|--------------------------|--------------------------|--------------------------|--------------------------|--------------------------|--------------------------|--------------------------|
| ア | <input type="checkbox"/> | <input checked="" type="checkbox"/> | <input type="checkbox"/> | <input type="checkbox"/> | <input type="checkbox"/> | <input type="checkbox"/> | <input type="checkbox"/> | <input type="checkbox"/> | <input type="checkbox"/> |

- 訂正するときは、プラスチック製消しゴムできれいに消し、マークシート上に消しくずを残してはいけません。
- 「解答やめ」の指示で記入をやめ、筆記用具を机上に置きなさい。
 - 「解答用紙」だけを監督者が回収します。指示があるまで着席していなさい。

問題は次のページから始まります。

1 次の地図を見て、あとの問いに答えなさい。



問1 地図中Aについて、東京が1月2日午前0時のとき、東経45度を示す地図中Pの経線を標準時子午線とするこの地点の日付と時刻として正しいものを、次の①から④の中から1つ選び、[ア] にマークしなさい。

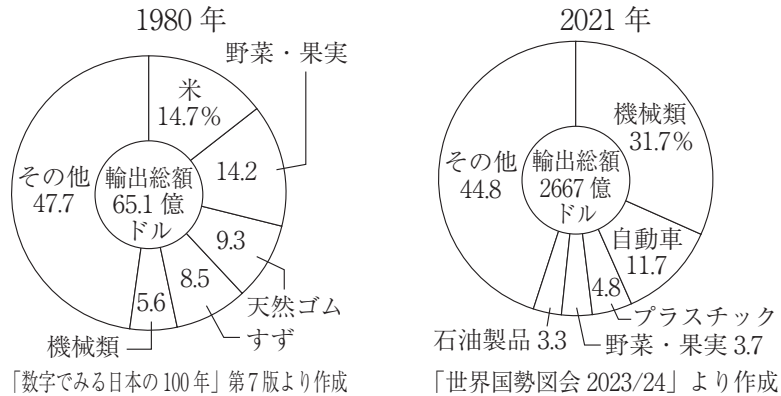
- ① 1月1日午後6時 ② 1月1日午後9時
③ 1月2日午前3時 ④ 1月2日午前6時

問2 地図中Bの国について述べた次の文の(あ)から(う)の正誤の組合せとして正しいものを、次の①から⑧の中から1つ選び、[イ] にマークしなさい。

- (あ) ASEAN加盟国の1つで、周辺諸国と経済的な結びつきを強めている。
(い) 人口が10億人を超えており、世界の中でも人口が多い国の1つである。
(う) ICT(情報通信技術)産業の中心地であるベンガルールに欧米の企業が進出している。

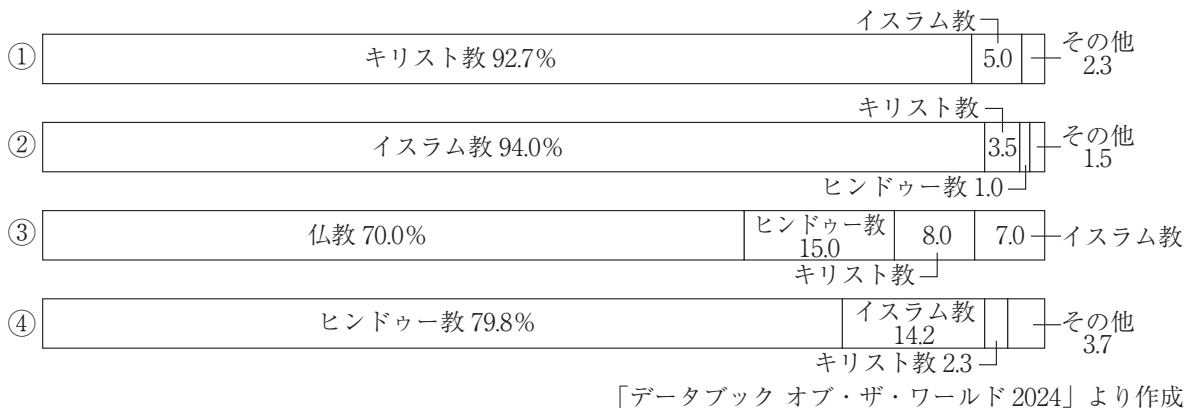
- ① (あ) 正・(い) 正・(う) 正 ② (あ) 正・(い) 正・(う) 誤
③ (あ) 正・(い) 誤・(う) 正 ④ (あ) 正・(い) 誤・(う) 誤
⑤ (あ) 誤・(い) 正・(う) 正 ⑥ (あ) 誤・(い) 誤・(う) 正
⑦ (あ) 誤・(い) 正・(う) 誤 ⑧ (あ) 誤・(い) 誤・(う) 誤

問3 地図中Cについて、この国の1980年と2021年の輸出総額とその内訳を示した次のグラフから読み取れる輸出品目の変化とその背景について述べた文として正しいものを、次の①から④の中から1つ選び、〔ウ〕にマークしなさい。



- ① 外国企業の受け入れを制限したことにより、工業製品の割合が大きく増加している。
- ② 外国企業の受け入れを制限したことにより、農産物の割合が大きく増加している。
- ③ 外国企業を積極的に受け入れたことにより、工業製品の割合が大きく増加している。
- ④ 外国企業を積極的に受け入れたことにより、農産物の割合が大きく増加している。

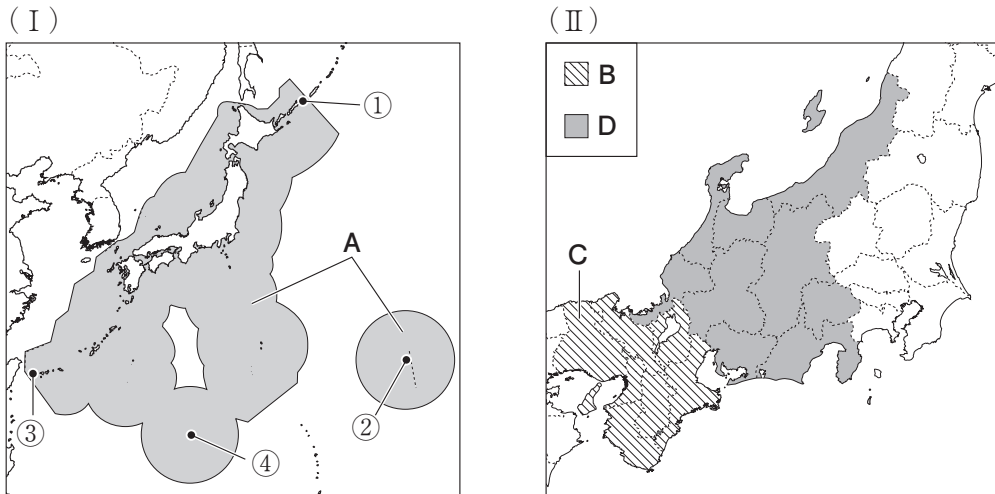
問4 地図中Dについて、この国の宗教別人口割合を示したグラフとして正しいものを、次の①から④の中から1つ選び、〔エ〕にマークしなさい。



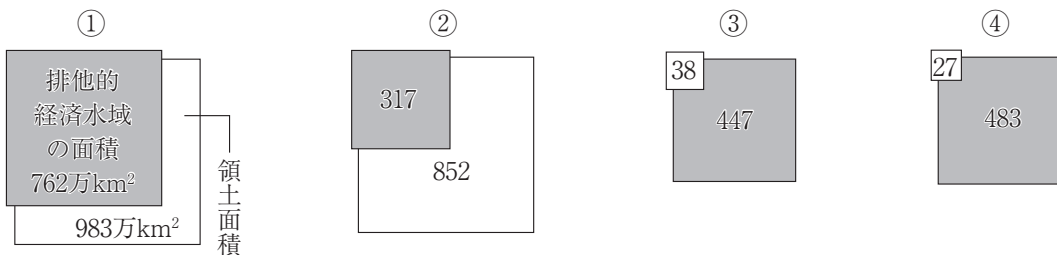
問5 地図中Eについて、この国の説明文として誤っているものを、次の①から④の中から1つ選び、〔オ〕にマークしなさい。

- ① 臨海部に経済特区を設け、外国企業を積極的に受け入れている。
- ② 人口増加を抑制するための一人っ子政策が原因で少子高齢化が進行した。
- ③ 経済発展に伴って大気汚染や河川の汚濁などの環境問題が深刻になっている。
- ④ 鉱産資源が豊富で、OPEC（石油輸出国機構）に加盟している。

2 次の地図（Ⅰ）と地図（Ⅱ）を見て、あとの問いに答えなさい。



問1 (Ⅰ)の地図中Aは排他的経済水域を示している。日本の領土面積と排他的経済水域の面積を比較した模式図として正しいものを、次の①から④の中から1つ選び、〔カ〕にマークしなさい。



〔海洋白書2008〕などより作成

問2 右の資料が示す島では、周囲に広がる排他的経済水域が失われないように、護岸工事が行われて水没を防いでいる。資料の島が位置する場所を、(Ⅰ)の地図中の①から④の中から1つ選び、〔キ〕にマークしなさい。



問3 (Ⅱ)の地図中Bの地方の気候について述べた次の文の(あ)から(う)の正誤の組合せとして正しいものを、次の①から⑧の中から1つ選び、〔ク〕にマークしなさい。

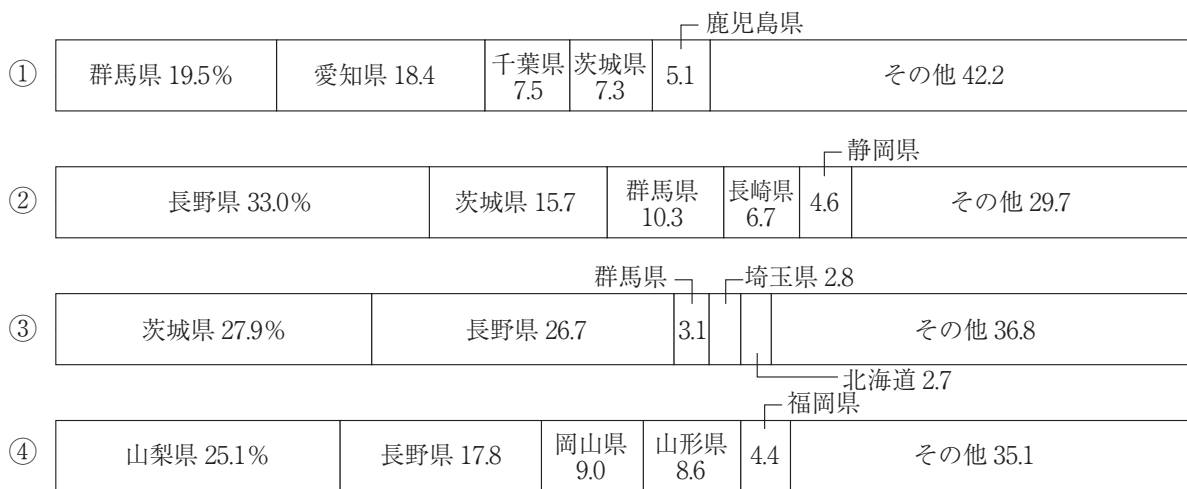
- (あ) 舞鶴市などに代表される北部は、北西の季節風の影響で冬に雨や雪が多い。
- (い) 大阪市などに代表される中央部は、温暖で日本の中でも特に降水量が多い。
- (う) 大津市などに代表される南部は、南東の季節風の影響で夏に雨が多い。

- ① (あ) 正・(い) 正・(う) 正
- ② (あ) 正・(い) 正・(う) 誤
- ③ (あ) 正・(い) 誤・(う) 正
- ④ (あ) 正・(い) 誤・(う) 誤
- ⑤ (あ) 誤・(い) 正・(う) 正
- ⑥ (あ) 誤・(い) 誤・(う) 正
- ⑦ (あ) 誤・(い) 正・(う) 誤
- ⑧ (あ) 誤・(い) 誤・(う) 誤

問4 (Ⅱ)の地図中Cの県庁所在地に位置するポートアイランドについて述べた文として正しいものを、次の①から④の中から1つ選び、〔ケ〕にマークしなさい。

- ① ポートアイランドと本土は、瀬戸大橋で結ばれている。
- ② 中央省庁など、政治の中枢機関が集中している。
- ③ ニュータウンを建設したときに出た土砂を利用してつくられた。
- ④ 施設園芸農業により、電照菊が盛んに栽培されている。

問5 (Ⅱ)の地図中Dの地方では、稲作や野菜、果実の生産が盛んである。2022年におけるキャベツの都道府県別収穫量割合を示したグラフとして正しいものを、次の①から④の中から1つ選び、〔コ〕にマークしなさい。



「データでみる県勢 2024」より作成

- 3 次の資料は、歴史上のできごとに関係した女性についてまとめたものである。資料を見て、あとの問いに答えなさい。

○ A 卑弥呼

3世紀ごろに日本にあった国を治めていた女王。卑弥呼が治めていた国については、近畿地方にあったという説と九州地方にあったという説がある。

○ 北条政子

鎌倉幕府を開いた源頼朝の妻であり、B 承久の乱が起こったときに御家人たちの前で行った演説が、幕府軍を勝利に導いたと言われている。

○ マリー・アントワネット

18世紀、フランス国王ルイ16世の王妃になった。ルイ16世の治世のとき、重税に苦しむ平民たちが中心となってC フランス革命が起こった。

○ 与謝野晶子

明治時代の歌人。D 日露戦争が起こると出兵した弟のことを思って「君死にたまふことなかれ」という詩を発表した。

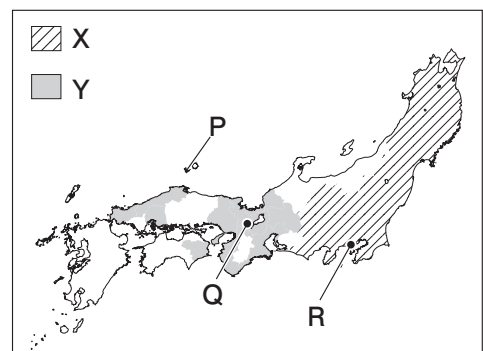
○ アンネ・フランク

ユダヤ系のドイツ人。家族とともにナチスの反ユダヤ政策から逃れるためにオランダに亡命したが、E 第二次世界大戦中に逮捕され、強制収容所で短い生涯を終えた。彼女のつづった「アンネの日記」は世界中の人々に読まれるようになった。

問1 下線部Aについて述べた文として正しいものを、次の①から④の中から1つ選び、[サ] にマークしなさい。

- ① 卑弥呼が中国の皇帝から授かったとされる金印が福岡県志賀島で見つかっている。
- ② 卑弥呼が治める国を邪馬台国といい、30ほどの小国を従えていたとされている。
- ③ 卑弥呼が中国に使いを送り、銅鏡などをたまわったことが『漢書』地理誌に記されている。
- ④ 日本最大の前方後円墳である大仙古墳は、卑弥呼の墓であるとされている。

問2 右の地図を参考にして、下線部Bについて述べた文として正しいものを、次の①から④の中から1つ選び、[シ] にマークしなさい。



- ① 承久の乱に敗れた後醍醐天皇は、地図中のPの島に流された。
- ② 北条政子の演説は、源頼朝の御恩を説くなどの内容で、地図中のQで行われた。
- ③ 承久の乱のあと、朝廷の監視などのために地図中のRに六波羅探題が設置された。
- ④ 地図中のXは承久の乱以前からの北条氏の勢力範囲を、Yは承久の乱直後に守護の交代があった国の範囲を示している。

問3 下線部Cについて述べた文として正しいものを、次の①から④の中から1つ選び、〔 ス 〕にマークしなさい。

- ① 国王による絶対王政を倒して革命政府が成立し、共和政が始まった。
- ② 国王を退位させ、代表会議に基盤を置く社会主義政権が成立した。
- ③ 専制を行う国王を追放し、新たに国王を迎え入れて世界初の立憲君主制を始めた。
- ④ 人民主権や三権分立を柱とする憲法が定められ、大統領制が始まった。

問4 下線部Dについて述べた次の文の(あ)から(う)の正誤の組合せとして正しいものを、次の①から⑧の中から1つ選び、〔 セ 〕にマークしなさい。

- (あ) 日本は優位に戦争を終えたにもかかわらず、賠償金を得られなかったことから日比谷焼き打ち事件が起こった。
- (い) 朝鮮半島で起こった甲午農民戦争をきっかけとして始まった。
- (う) 戦後に結ばれたポーツマス条約で、日本は北緯50度以南の樺太を譲り受けた。

- ① (あ) 正・(い) 正・(う) 正 ② (あ) 正・(い) 正・(う) 誤
- ③ (あ) 正・(い) 誤・(う) 正 ④ (あ) 正・(い) 誤・(う) 誤
- ⑤ (あ) 誤・(い) 正・(う) 正 ⑥ (あ) 誤・(い) 誤・(う) 正
- ⑦ (あ) 誤・(い) 正・(う) 誤 ⑧ (あ) 誤・(い) 誤・(う) 誤

問5 下線部Eについて、第二次世界大戦前から第二次世界大戦中に起こったできごとを述べた文(あ)から(え)を、古いものから順に並べた組合せとして正しいものを、次の①から④の中から1つ選び、〔 ソ 〕にマークしなさい。

- (あ) ドイツが独ソ不可侵条約を結び、ポーランドに侵攻した。
- (い) ナチスを率いるヒトラーがドイツの首相になった。
- (う) ファシズムに対抗するため、連合国側が大西洋憲章を発表した。
- (え) ドイツ、イタリア、日本が日独伊三国同盟を結んだ。

- ① (あ) → (い) → (う) → (え) ② (い) → (あ) → (え) → (う)
- ③ (い) → (う) → (え) → (あ) ④ (え) → (う) → (あ) → (い)

- 4 次の資料は、歴史上出された憲法や命令、憲章などの一部を示したものである。資料を見て、あとの問いに答えなさい。なお、現代語訳、要約をしているものもある。

- **A十七条の憲法**
二に曰く、あつく三宝を敬え。
三に曰く、詔をうけたまわりては必ずつつしめ（守りなさい）。
- バテレン追放令
日本は神の国であるから、**Bキリスト教**の国が日本に邪教を広めることは、けしからぬことである。
- **C異国船打払令**
今後はどこの海辺の村でも、外国船が乗り寄せてくるのを見たら、その村にいる人々で、ためらうことなくひたすら撃退し……。 (以下略)
- **Dワイマール憲法**
第 151 条 経済生活の秩序は、すべての人に、人たるに値する生存を保障することを目指す正義の諸原則に適合するものでなければならない。
- 国際連合憲章
われら連合国の人民は、われらの一生のうちに**E二度まで言語に絶する悲哀を人類に与えた戦争の惨害から将来の世代を救い**… (中略) …われらの努力を結集することに決定した。

問1 下線部Aについて述べた次の文の (あ)・(い) の正誤の組合せとして正しいものを、次の①から④の中から1つ選び、[タ] にマークしなさい。

- (あ) この法令を出した人物は、推古天皇の摂政を務めていた人物である。
(い) この命令における三宝とは「仏・法・僧」のことで、「詔」とは役人の命令のことである。

- ① (あ) 正・(い) 正 ② (あ) 正・(い) 誤
③ (あ) 誤・(い) 正 ④ (あ) 誤・(い) 誤

問2 下線部Bについて述べた文として正しいものを、次の①から④の中から1つ選び、[チ] にマークしなさい。

- ① カトリックに対抗したプロテスタントの中心であるイエズス会がアジアに布教を行い、日本にも布教した。
② キリシタン大名となった九州の大名が、天正遣欧使節としてパリに少年を派遣した。
③ 織田信長は仏教勢力を優遇する一方でキリシタン勢力と敵対したため、武力をもって制圧した。
④ バテレン追放令により宣教師は追放されたが、貿易は継続したために日本国内のキリシタンの人数は増えていった。

問3 下線部Cについて述べた次の文の(あ)・(い)の正誤の組合せとして正しいものを、次の①から④の中から1つ選び、〔 ツ 〕にマークしなさい。

(あ) ロシア、イギリスなどの船の接近が増えたことを背景として出された法令である。

(い) この政策を批判した高野長英や渡辺崋山が罰せられる安政の大獄が起こった。

① (あ) 正・(い) 正 ② (あ) 正・(い) 誤

③ (あ) 誤・(い) 正 ④ (あ) 誤・(い) 誤

問4 下線部Dが制定された国について述べた文として正しいものを、次の①から④の中から1つ選び、〔 テ 〕にマークしなさい。

① 三国同盟の一国として第一次世界大戦に参戦し、敗戦国になった。

② ロシアの満州進出を警戒して日本と同盟を結んだ。

③ 三国協商の一国として第一次世界大戦に参戦したが、国内で革命が起こって離脱した。

④ 大統領によって国際連盟の設立が提唱されたが、発足した国際連盟には加入しなかった。

問5 下線部Eは、第二次世界大戦後の世界の平和を守ることを誓う内容になっている。戦後の世界情勢について述べた文(あ)から(え)を、古いものから順に並べた組合せとして正しいものを、次の①から④の中から1つ選び、〔 ト 〕にマークしなさい。

(あ) 北ベトナムと南ベトナムの戦争に、アメリカが本格的に介入した。

(い) 南北統一をめざした北朝鮮が韓国に侵攻し、朝鮮戦争が始まった。

(う) イラクによるクウェート侵攻をきっかけに、湾岸戦争が始まった。

(え) ベルリンの壁が壊され、米ソ両首脳が冷戦の終結を宣言した。

① (あ) → (い) → (う) → (え) ② (い) → (あ) → (え) → (う)

③ (い) → (う) → (え) → (あ) ④ (え) → (う) → (あ) → (い)

- 5 次の資料は、たくみさんのクラスで行う社会科の研究発表における、各班のテーマである。資料を見て、あとの問いに答えなさい。

- 一班 A フランス人権宣言の内容と背景となる思想の研究。
- 二班 基本的人権を制限するB 公共の福祉とはどのようなものか。
- 三班 日本国憲法第96条に定められたC 憲法改正の手続きの研究。
- 四班 大きな政府とD 小さな政府という二つの考え方の長所・短所を調べる。
- 五班 裁判所と三権分立…E 裁判所と国会、内閣、国民の関係の研究。

問1 下線部Aについて、フランス人権宣言の条文の一部として正しいものを、次の①から④の中から1つ選び、[ナ]にマークしなさい。

- ① 議会の承認なしに、国王の権力によって法律とその効力を停止することができると称しているが、そのようなことは違法である……
- ② ……基本的人権は、侵すことのできない永久の権利として、現在及び将来の国民に与えられる。
- ③ 我々は、自明の真理として、人間は平等につくられており、ゆずりわたすことのできない権利を神から与えられている、……
- ④ 人は生まれながらにして、自由で平等な権利をもっている。……

問2 下線部Bにおける人権の制限の例として正しいものを、次の①から④の中から1つ選び、[ニ]にマークしなさい。

- ① プライバシーの権利を守るために、個人の交友関係についての新聞記事の掲載を禁止する。
- ② 政府の政策に反対する報道を、一方的に規制する。
- ③ 公務員の選挙について、選挙権を有するものを18歳以上の男女に限定する。
- ④ 裁判所が発する令状があれば、個人の住宅を捜索することができる。

問3 下線部Cについて述べた次の文の(あ)・(い)の正誤の組合せとして正しいものを、次の①から④の中から1つ選び、〔ヌ〕にマークしなさい。

- (あ) 国民投票で有効投票数の過半数の賛成を得られた改正案は、天皇の名において公布される。
(い) 衆議院、参議院いずれかで総議員の3分の2以上の賛成が得られない場合、憲法改正の発議はされない。

- ① (あ) 正・(い) 正 ② (あ) 正・(い) 誤
③ (あ) 誤・(い) 正 ④ (あ) 誤・(い) 誤

問4 下線部Dについて述べた文として正しいものを、次の①から④の中から1つ選び、〔ネ〕にマークしなさい。

- ① 高齢者や障がい者の生活を守るために社会保障制度を充実させる。
② 失業者の増加を抑えるために公共事業を活発に行い、労働組合を保護する。
③ 中小企業の倒産を防ぐために補助金を出し、企業間の競争を制限する。
④ 経済活動を活発にするために規制緩和を行い、国の仕事の一部を民間に移譲する。

問5 下線部Eについて述べた次の文の(あ)から(う)の正誤の組合せとして正しいものを、次の①から⑧の中から1つ選び、〔ノ〕にマークしなさい。

- (あ) 最高裁判所は、法律や命令が憲法に違反していないか最終的に判断する権限があることから、「憲法の番人」と呼ばれる。
(い) 最高裁判所の裁判官は、国民審査により直接審査され、辞めさせられることがある。
(う) 2009年から導入された裁判員制度では、国民が裁判員として重大な刑事事件の第三審に参加することになっている。

- ① (あ) 正・(い) 正・(う) 正 ② (あ) 正・(い) 正・(う) 誤
③ (あ) 正・(い) 誤・(う) 正 ④ (あ) 正・(い) 誤・(う) 誤
⑤ (あ) 誤・(い) 正・(う) 正 ⑥ (あ) 誤・(い) 誤・(う) 正
⑦ (あ) 誤・(い) 正・(う) 誤 ⑧ (あ) 誤・(い) 誤・(う) 誤

6 次の文は、情報社会についてまとめたものである。文を読み、あとの問いに答えなさい。

現代の社会はA 情報社会であり、インターネットの利便性や重要性が増している。世界中で多くの人がインターネットを利用しており、通信やSNSの利用などのほか、インターネットショッピングなども広く利用されており、B 流通や契約にも大きく関わっていることがわかる。また、C 労働の場でもインターネットは欠かせないものとなっている。

インターネットによる大きな変化があった分野として、D 金融も挙げられる。これまでとは異なり、銀行の窓口に行かずにインターネット上でできる手続きも増え、利便性が非常に高まったと言える。

問1 下線部Aについて述べた文として誤っているものを、次の①から④の中から1つ選び、〔ハ〕にマークしなさい。

- ① 情報化が進んだ現在では、情報を扱う態度である情報リテラシーが求められている。
- ② 人工知能（AI）によって大量の情報が処理され、その情報が社会で活用されている。
- ③ 情報化が進んだことにより、個人情報知らないうちに世界中に広まるおそれが生じた。
- ④ 情報化が進んだことにより、ICカードやスマートフォンなどによるキャッシュレス決済が広がった。

問2 下線部Bについて述べた文として正しいものを、次の①から④の中から1つ選び、〔ヒ〕にマークしなさい。

- ① 小売業者などは、流通の労力や費用を削減するために、卸売業者を介さずに直接仕入れるなど、流通の合理化を行っている。
- ② 小売業者の1つである百貨店の売上額は、コンビニエンスストアなどと比較すると増加傾向にある。
- ③ 契約を結ぶことは基本的には当事者である私たちの自由であり、契約は少なくとも片方の合意があれば成立する。
- ④ 消費者問題は契約を結ぶ前に起こる問題のことであり、契約を結んだ後に消費者問題が生じることはない。

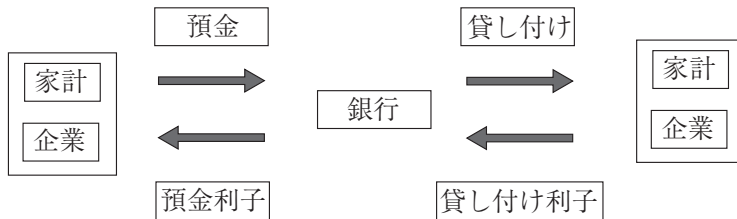
問3 下線部Cについて述べた次の文の(あ)・(い)の正誤の組合せとして正しいものを、次の①から④の中から1つ選び、〔 フ 〕にマークしなさい。

(あ) 日本における少子高齢化や人口減少の問題を受けて、日本人の雇用を守るために外国人労働者の受け入れは縮小傾向にある。

(い) 労働者は使用者に対して立場が弱いことが多いので、団結することによって、労働条件の向上を使用者に対して求めることができる。

- ① (あ) 正・(い) 正 ② (あ) 正・(い) 誤
 ③ (あ) 誤・(い) 正 ④ (あ) 誤・(い) 誤

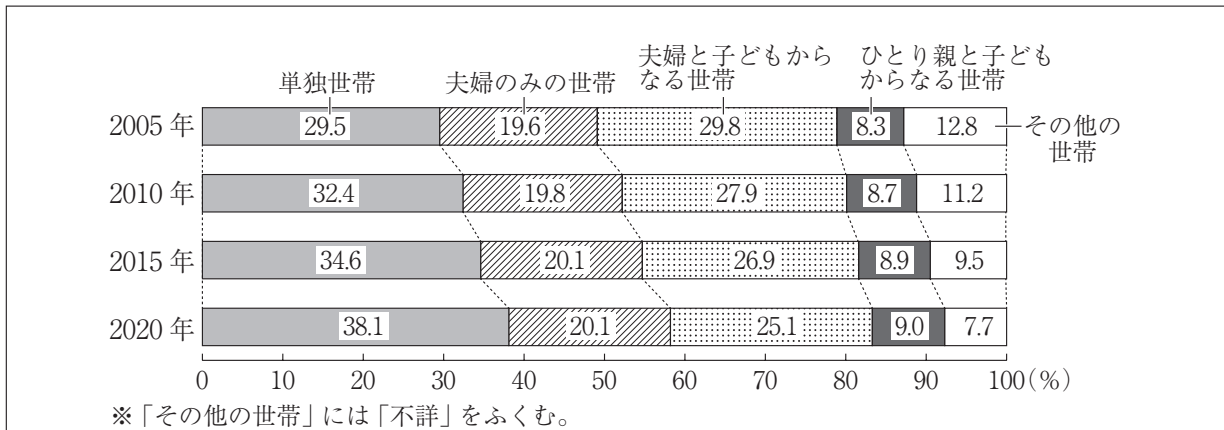
問4 下線部Dについて述べた次の文の空欄【 a 】・【 b 】にあてはまる組合せとして正しいものを、次の①から④の中から1つ選び、〔 へ 〕にマークしなさい。



上の資料は、銀行の役割を示したものである。銀行は、家計や企業がすぐに使わないお金を預金として預かり、預かったお金を、資金を必要としている家計や企業に貸し付けている。このような金融を【 a 】という。銀行は預かったお金に対しては利子を支払い、貸し付けたお金に対しては利子を受け取るが、一般に【 b 】高く設定されており、その差額が銀行の利益となっている。

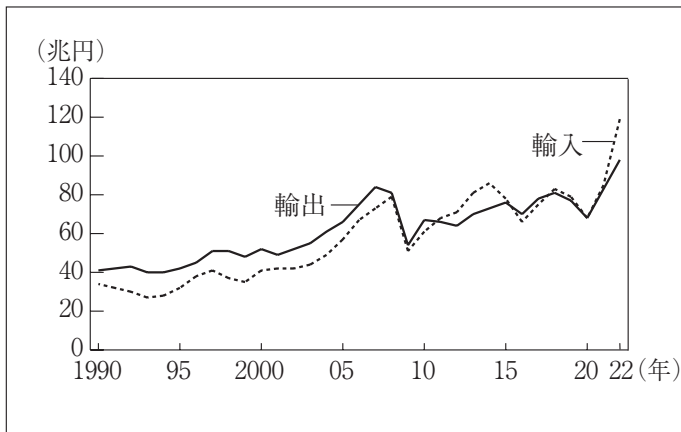
- ① 【 a 】：間接金融 【 b 】：貸し付け利子は預金利子より
 ② 【 a 】：間接金融 【 b 】：預金利子は貸し付け利子より
 ③ 【 a 】：直接金融 【 b 】：貸し付け利子は預金利子より
 ④ 【 a 】：直接金融 【 b 】：預金利子は貸し付け利子より

7 次の資料とその解説を読み、正しいものの組合せを次の①から⑦の中から1つ選び、〔ホ〕にマークしなさい。



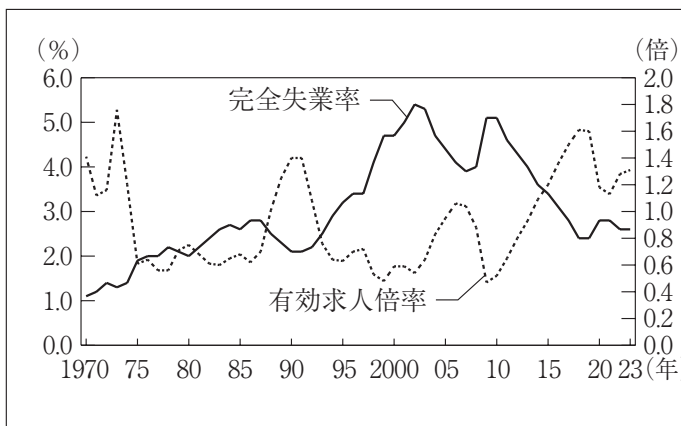
(あ) 少子高齢化が進行していることから、子どものいない世帯の割合が2010年には5割を超え、2020年では6割以上まで増加している。また、核家族の割合は、2005～2020年では、30%台後半から前半へと、やや低下の傾向を示している。

総務省統計局「令和2年国勢調査」より



(い) 日本の貿易は、輸出額が輸入額を上回る貿易黒字が続いていたが、2011年から2022年は輸入額が輸出額を上回る貿易赤字となる年が多くなり、2022年の貿易赤字額は約20兆円に達している。

「日本国勢図会 2024/25」などより



(う) 完全失業率は1990年から2010年代の前半まで3%以上が続く状態であったが、有効求人倍率が伸び始めたことによって2020年から2023年は3%以下におさまっている。

「日本国勢図会 2024/25」などより

- ① (あ) ② (い) ③ (う)
 ④ (あ)・(い) ⑤ (あ)・(う) ⑥ (い)・(う)
 ⑦ (あ)・(い)・(う)